

Time: 10 Minutes	Paper Math 6 (T-1)	Total Marks: 10
5th Month, 1st Week, 1st Day		Exercise 9.1 Q # (1, 2)

Q.1. Choose the correct options. (1 x 3 = 3) درست جواب کا انتخاب کریں۔

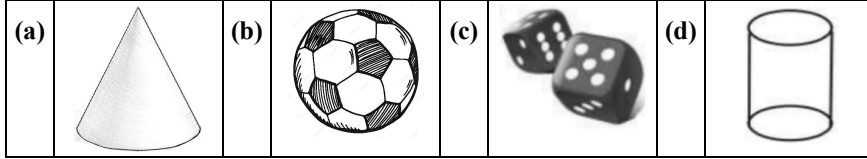
(i) Which of the following is the 3-D shape? درج ذیل میں سے کون سی سہ رُخی شکل ہے؟

(a) triangle	مثلاث	(b) line	خط	(c) cube	مکعب	(d) square	مربع
--------------	-------	----------	----	----------	------	------------	------

(ii) Which of the following is 2-D shape? درج ذیل میں سے کون سی دو رُخی شکل ہے؟

(a) cone	تخروط	(b) cube	مکعب	(c) cuboid	مکعب نما	(d) square	مربع
----------	-------	----------	------	------------	----------	------------	------

(iii) Identify the sphere: گڑھ کی نشاندہی کریں:



☆ Answer the following questions: درج ذیل سوالات کے جواب دیں۔

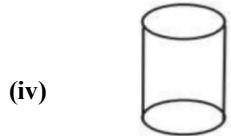
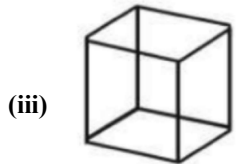
Q.2. Write the name of 3-D figures which resemble to these object. (1x2=2)

سہ رُخی اشکال کے نام لکھیں جو ان تصاویر سے ملتی جلتی ہیں۔



Q.3. Sort 1-D, 2-D and 3-D shapes. (1x5=5)

یک رُخی، دو رُخی اور سہ رُخی اشکال کو الگ الگ کریں۔



Time: 10 Minutes	Paper Math 6 (T-1)	Total Marks: 10
5th Month, 1st Week, 1st Day		Exercise 9.1 Q # (1, 2)

Q.1. Choose the correct options. (1 x 3 = 3) درست جواب کا انتخاب کریں۔

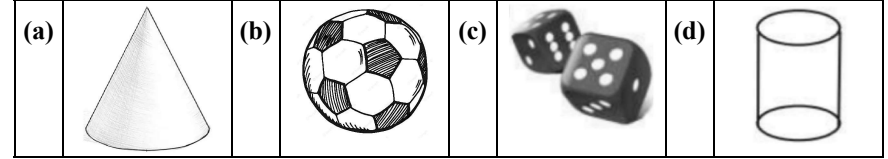
(i) Which of the following is the 3-D shape? درج ذیل میں سے کون سی سہ رُخی شکل ہے؟

(a) triangle	مثلاث	(b) line	خط	(c) cube	مکعب	(d) square	مربع
--------------	-------	----------	----	----------	------	------------	------

(ii) Which of the following is 2-D shape? درج ذیل میں سے کون سی دو رُخی شکل ہے؟

(a) cone	تخروط	(b) cube	مکعب	(c) cuboid	مکعب نما	(d) square	مربع
----------	-------	----------	------	------------	----------	------------	------

(iii) Identify the sphere: گڑھ کی نشاندہی کریں:



☆ Answer the following questions: درج ذیل سوالات کے جواب دیں۔

Q.2. Write the name of 3-D figures which resemble to these object. (1x2=2)

سہ رُخی اشکال کے نام لکھیں جو ان تصاویر سے ملتی جلتی ہیں۔



Q.3. Sort 1-D, 2-D and 3-D shapes. (1x5=5)

یک رُخی، دو رُخی اور سہ رُخی اشکال کو الگ الگ کریں۔

